



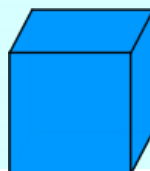
# mathématiques 9e année



**le vendredi 22 février 2019**



**Mme Barton**



## **Chapitre 2**

## **LES PUISSANCES**

## **TEST**

**le vendredi 22 février**

**Valeur:**

**100 points**

**Chapitre 2**  
**LES PUISSANCES**  
**TEST**  
**SANS CALCULATRICE**  
**Temps limite:**  
**la période de la classe**

**TEST - Il faut:**

- **des crayons**
- **une gomme à effacer**
- **une feuille pour couvrir les réponses**
- **Fais TOUT sur les pages du TEST**
- **Les calculatrices ne sont pas permises**
- **Temps limite: la période de la classe**

**Après le test:**

**Pages 41 - 42**

**Questions 9 et 10**

**Fais un dessin! Montre tous tes calculs.**

Cylindres

$$A = 2\pi r^2 + 2\pi r h$$